





**Scheda 3.32 - Cubo tronco elevato – Seconda parte**

Data: \_\_\_\_\_ Classe: \_\_\_\_\_ Gruppo: \_\_\_\_\_

Studenti:

1) \_\_\_\_\_ 2) \_\_\_\_\_

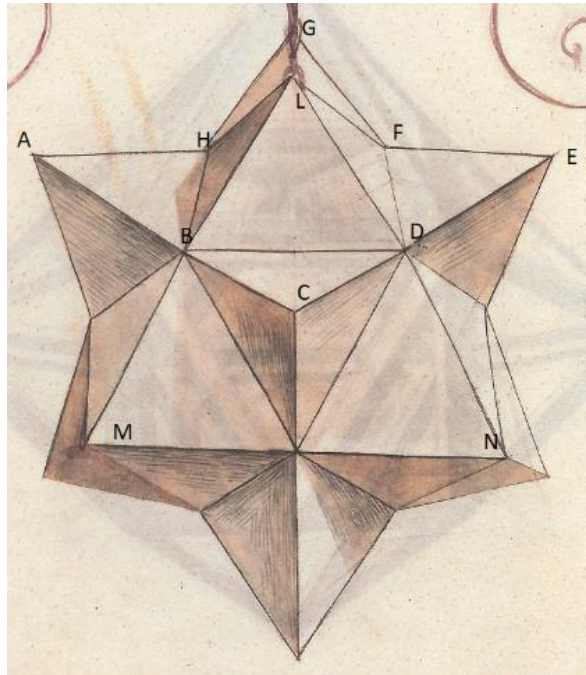
3) \_\_\_\_\_ 4) \_\_\_\_\_



Di quante tessere avete bisogno per costruire un modello di cubo tronco elevato?

Di quali tipi devono essere le tessere? Quante tessere per ogni tipo?

**Costruite un modello di cubo tronco elevato.**



Nella scheda precedente vi abbiamo posto le seguenti domande:

I vertici L, B, M sono allineati? I vertici L, D, N sono allineati?

I vertici L, B, M, D, N sono complanari?

Ora che avete il modello reale modifichereste qualcuna delle risposte che avete dato prima della sua costruzione?