

Complementi di Fisica - V Lezione

Soluzione degli esercizi 3, 4, 5 e 8
della III prova di autovalutazione

Potenziale elettrostatico (I parte)

Andrea Bettucci

27 marzo 2025

Dipartimento di Scienze di Base e Applicate per l'Ingegneria
Sapienza Università di Roma

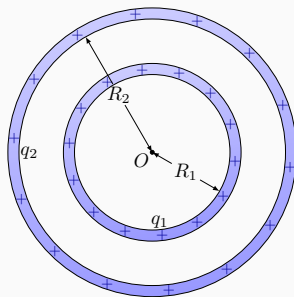
Soluzione degli esercizi 3, 4, 5 e 8 della III prova di autovalutazione

Esercizio 3

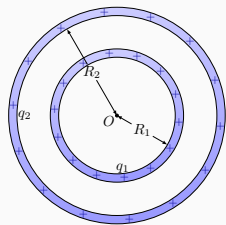
Su di un guscio sferico di raggio R_1 vi è una carica totale q_1 uniformemente distribuita sulla sua superficie. Un secondo, più grande guscio sferico di raggio R_2 concentrico al primo, porta una carica q_2 uniformemente distribuita sulla sua superficie. (a) Si usi la legge di Gauss per trovare il campo elettrico nelle regioni $r < R_1$, $R_1 < r < R_2$ e $r > R_2$, essendo r la distanza da centro dei gusci sferici. (b) Quale dovrebbe essere il rapporto delle cariche q_1/q_2 e i loro relativi segni affinché il campo elettrico sia zero per $r > R_2$?

Esercizio 3

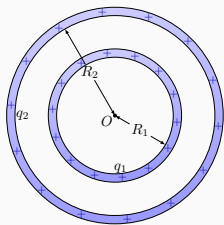
Su di un guscio sferico di raggio R_1 vi è una carica totale q_1 uniformemente distribuita sulla sua superficie. Un secondo, più grande guscio sferico di raggio R_2 concentrico al primo, porta una carica q_2 uniformemente distribuita sulla sua superficie. (a) Si usi la legge di Gauss per trovare il campo elettrico nelle regioni $r < R_1$, $R_1 < r < R_2$ e $r > R_2$, essendo r la distanza da centro dei gusci sferici. (b) Quale dovrebbe essere il rapporto delle cariche q_1/q_2 e i loro relativi segni affinché il campo elettrico sia zero per $r > R_2$?



Poiché la distribuzione di carica ha simmetria sferica, il campo elettrico non può che essere diretto radialmente, con modulo costante sulla superficie di sfere centrate in O : come superficie gaussiana conviene scegliere una qualsiasi sfera di raggio r ($0 \leq r \leq \infty$) centrata in O .

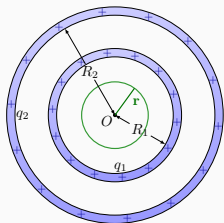


Poiché la distribuzione di carica ha simmetria sferica, il campo elettrico non può che essere diretto radialmente, con modulo costante sulla superficie di sfere centrate in O : come superficie gaussiana conviene scegliere una qualsiasi sfera di raggio r ($0 \leq r \leq \infty$) centrata in O .



a) Se $r < R_1$ non vi è carica elettrica all'interno della sfera, pertanto:

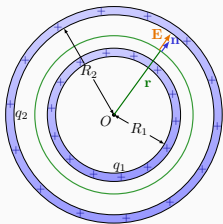
$$\int_S (\mathbf{E} \cdot \mathbf{n}) dS = \frac{\sum_i q_i}{\epsilon_0} = 0 \quad \Rightarrow \quad \mathbf{E} = 0.$$



Se $R_1 \leq r < R_2$, la carica elettrica all'interno della sfera è pari a q_1 e, data la simmetria della distribuzione di carica, il campo elettrico deve essere diretto radialmente con valore costante sulla superficie; quindi:

$$\int_S (\mathbf{E} \cdot \mathbf{n}) dS = E \int_S dS = E(4\pi r^2) = \frac{q_1}{\epsilon_0}.$$

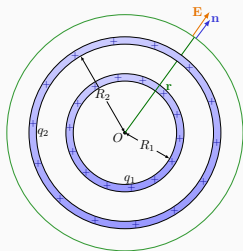
$$E = \frac{q_1}{4\pi\epsilon_0 r^2}.$$



Se $r \geq R_2$, la carica elettrica all'interno della sfera è pari a $q_1 + q_2$ e, sempre per la simmetria sferica della distribuzione di carica, il campo elettrico non può che essere diretto radialmente con valore costante sulla superficie; quindi:

$$\int_S (\mathbf{E} \cdot \mathbf{n}) dS = E \int_S dS = E(4\pi r^2) = \frac{(q_1 + q_2)}{\epsilon_0}.$$

$$E = \frac{(q_1 + q_2)}{4\pi\epsilon_0 r^2}.$$



b) Se per $r > R_2$ il campo elettrico deve essere nullo, dalla relazione precedente deve essere

$$q_1 + q_2 = 0 \quad \Rightarrow \quad q_1 = -q_2 \quad \Rightarrow \quad \frac{q_1}{q_2} = -1.$$

Esercizio 4

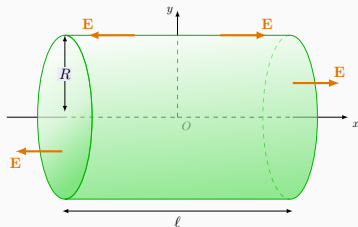
Vi è un campo elettrico

$\mathbf{E} = (200 \text{ N/C})\mathbf{i}$ nella regione $x > 0$
ed $\mathbf{E} = (-200 \text{ N/C})\mathbf{i}$ nella la regione
 $x < 0$. Una superficie immaginaria a
forma di cilindro retto di lunghezza
 $\ell = 20 \text{ cm}$ e raggio $R = 5 \text{ cm}$ è
disposta con il suo asse lungo l'asse
 x con una base nel punto di
coordinata $x = \ell/2$ e l'altra base nel
punto $x = -\ell/2$. (a) Determinare il
flusso netto del campo elettrico
attraverso l'intera superficie chiusa.
(b) Quanto vale la carica netta totale
all'interno della superficie chiusa?

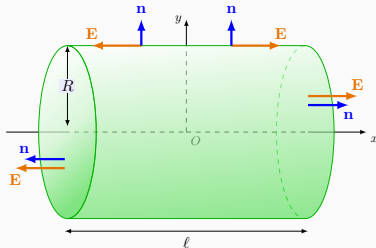
Esercizio 4

Vi è un campo elettrico

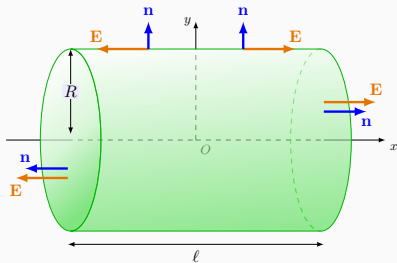
$\mathbf{E} = (200 \text{ N/C})\mathbf{i}$ nella regione $x > 0$
ed $\mathbf{E} = (-200 \text{ N/C})\mathbf{i}$ nella la regione
 $x < 0$. Una superficie immaginaria a
forma di cilindro retto di lunghezza
 $\ell = 20 \text{ cm}$ e raggio $R = 5 \text{ cm}$ è
disposta con il suo asse lungo l'asse
 x con una base nel punto di
coordinata $x = \ell/2$ e l'altra base nel
punto $x = -\ell/2$. (a) Determinare il
flusso netto del campo elettrico
attraverso l'intera superficie chiusa.
(b) Quanto vale la carica netta totale
all'interno della superficie chiusa?



$$\Phi(\mathbf{E}) = \int_S (\mathbf{E} \cdot \mathbf{n}) dS = \frac{\sum_i q_i}{\epsilon_0}$$



- Il flusso del campo elettrico attraverso la superficie chiusa cilindrica è la somma di tutti i flussi (**con il loro segno!**) attraverso le superfici che compongono il cilindro.
- Data la direzione del versore normale alle superfici \mathbf{n} , è nullo il flusso netto del campo elettrico attraverso la superficie laterale del cilindro.
- Per la struttura del campo elettrico, il flusso attraverso le due superfici di base ha identico valore.

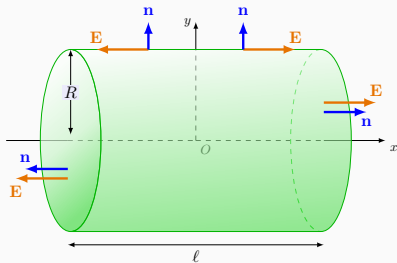


$$\Phi(\mathbf{E})_{\text{base}} = \int_S E dS = E(\pi R^2)$$

$$\Phi(\mathbf{E})_{\text{netto}} = 2\Phi(\mathbf{E})_{\text{base}} = 2E(\pi R^2) = 3,14 \text{ N} \cdot \text{m}^2/\text{C}.$$

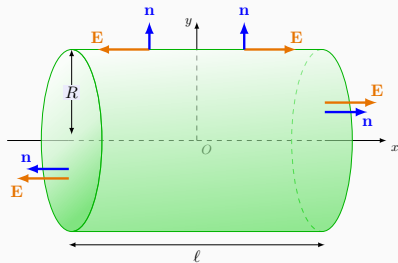
In conclusione, è noto il valore della carica elettrica all'interno del cilindro.

$$Q_{\text{int}} = \epsilon_0 \Phi(\mathbf{E})_{\text{totale}} = (8,85 \times 10^{-12} \text{ C}^2/\text{N} \cdot \text{m}^2)(3,14 \text{ N} \cdot \text{m}^2/\text{C}) = 27,8 \text{ pC}.$$



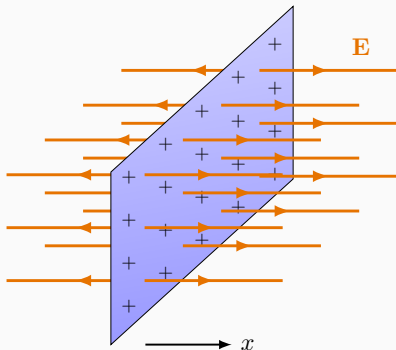
Due domandi interessanti

1. Perché la carica elettrica all'interno del cilindro non dipende dalla lunghezza del cilindro? Aumentando ℓ , ad esempio, aumenta il volume del cilindro e, di conseguenza dovrebbe aumentare la carica elettrica contenuta al suo interno!!
2. Perché, invece, la carica elettrica all'interno del cilindro dipende dal raggio R delle basi?

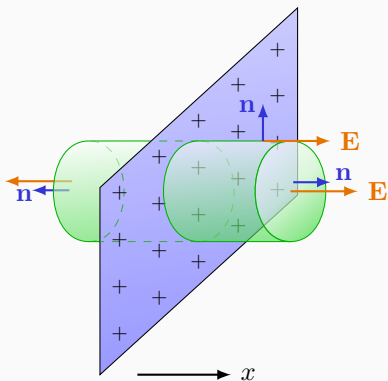


Due domande interessanti

1. Perché la carica elettrica all'interno del cilindro non dipende dalla lunghezza del cilindro? Aumentando ℓ , ad esempio, aumenta il volume del cilindro e, di conseguenza dovrebbe aumentare la carica elettrica contenuta al suo interno!!
2. Perché, invece, la carica elettrica all'interno del cilindro dipende dal raggio R delle basi?
3. **Con quale distribuzione di carica è possibile creare il campo elettrico dell'esercizio?**



Una distribuzione piana infinitamente estesa con densità superficiale di carica σ genera un campo elettrico uniforme, di intensità $E = \sigma/2\epsilon_0$ perpendicolare al piano, diretto in versi opposti nei due semispazi individuati dal piano (**II Lezione**).



È questo il motivo per il quale la carica elettrica all'interno del cilindro è indipendente dalla lunghezza del cilindro, ma è funzione del raggio R delle basi del cilindro!!

Esercizio 5

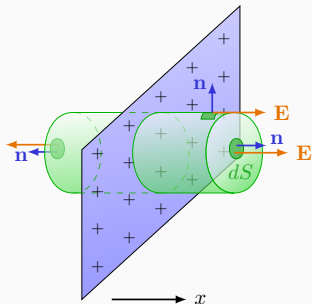
Utilizzando la legge di Gauss si determini il campo elettrico creato da una distribuzione uniforme piana di carica infinitamente estesa con densità superficiale di carica σ .

Esercizio 5

Utilizzando la legge di Gauss si determini il campo elettrico creato da una distribuzione uniforme piana di carica infinitamente estesa con densità superficiale di carica σ .

- Data la distribuzione di carica, \mathbf{E} deve essere ad essa perpendicolare, con versi opposti nei due semispazi individuati dal piano.
- \mathbf{E} deve avere la stessa intensità in punti equidistanti dal piano.
- Il calcolo del flusso del campo elettrico diviene allora semplice se, come superficie chiusa, si sceglie un piccolo cilindro retto chiuso con asse perpendicolare alla distribuzione di cariche e basi, di raggio R , da essa equidistanti.

Per quanto è stato detto nell'esercizio precedente, il flusso del campo elettrico attraverso il cilindro così scelto si riduce al solo flusso attraverso le basi del cilindro.



$$\Phi(\mathbf{E})_{\text{base}} = \int_S E dS = E(\pi R^2)$$

$$\Phi(\mathbf{E})_{\text{netto}} = 2\Phi(\mathbf{E})_{\text{base}} = 2E(\pi R^2).$$

La carica elettrica all'interno del cilindro è quella sulla superficie circolare intersezione tra il cilindro e il piano delle cariche:

$$Q_{\text{int}} = \sigma(\pi R^2).$$

In conclusione, dal teorema di Gauss si ottiene l'intensità di \mathbf{E} .

$$\Phi(\mathbf{E}) = \int_S (\mathbf{E} \cdot \mathbf{n}) dS = \frac{Q_{\text{int}}}{\epsilon_0} \Rightarrow 2E(\pi R^2) = \frac{\sigma(\pi R^2)}{\epsilon_0}.$$

$$E = \frac{\sigma}{2\epsilon_0}.$$

Esercizio 8

In una sfera isolante di raggio R è distribuita una carica Q con densità dipendente dalla distanza r dal centro della sfera secondo la legge $\rho(r) = \alpha r^2$ con α costante. Supponendo noti i valori di R e Q , si determini la costante α e il campo elettrico in un generico punto P esterno alla sfera.

Poiché la densità della distribuzione di carica è funzione della distanza dal centro della sfera, la carica totale va espressa come

$$Q = \int_V \rho(r) dV$$

essendo l'integrale esteso a tutto il volume V della sfera.

Per una sfera di raggio r

$$V = \frac{4}{3}\pi r^3 \quad \Rightarrow \quad dV = 4\pi r^2 dr$$

Di conseguenza,

$$Q = \int_0^R (\alpha r^2)(4\pi r^2 dr) = 4\pi\alpha \int_0^R r^4 dr = \frac{4}{5}\pi\alpha R^5$$

da cui si ricava

$$\alpha = \frac{5}{4} \frac{Q}{\pi R^5}.$$

Di conseguenza,

$$Q = \int_0^R (\alpha r^2)(4\pi r^2 dr) = 4\pi\alpha \int_0^R r^4 dr = \frac{4}{5}\pi\alpha R^5$$

da cui si ricava

$$\alpha = \frac{5}{4} \frac{Q}{\pi R^5}.$$

Per quanto riguarda il campo elettrico in un punto P al di fuori della sfera, per $r > R$ la distribuzione di carica, anche se di densità non costante, conserva la simmetria sferica poiché $\rho = \rho(r)$; di conseguenza, la distribuzione di carica dal punto di vista del campo elettrico creato in P equivale a una carica puntiforme Q posta nel centro della sfera; pertanto si ha:

$$E = \frac{Q}{4\pi\epsilon_0 r^2}.$$

Potenziale elettrostatico (I parte)

Forze conservative

Se una forza \mathbf{F} è conservativa è possibile definire l'energia potenziale $U(x, y, z)$ tale che

$$L = \int_a^b \mathbf{F} \cdot d\mathbf{s} = U_a - U_b = -\Delta U \quad \Rightarrow \quad L = -\Delta U.$$

In un campo di forze conservative l'energia meccanica E rimane costante:

$$E = T + U$$

dove T rappresenta l'energia cinetica

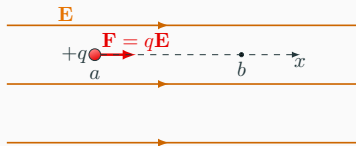
$$T = \frac{1}{2}mv^2.$$

La forza di Coulomb è conservativa

Per una carica positiva q che sotto l'azione di un campo elettrostatico \mathbf{E} si muova dalla posizione a alla posizione b

$$\Delta U = U_b - U_a = - \int_a^b q\mathbf{E} \cdot d\mathbf{s}.$$

In un campo elettrico uniforme



$$U_b - U_a = - \int_a^b q\mathbf{E} \cdot d\mathbf{s} = -qE(x_b - x_a) = -qEd.$$

Spostandosi da sinistra verso destra con accelerazione costante, la carica q diminuisce la propria energia potenziale e aumenta della stessa quantità l'energia cinetica: l'energia meccanica si conserva.

Potenziale elettrostatico

Il potenziale elettrostatico V è l'energia potenziale per unità di carica.

Se una carica q possiede nel punto b energia potenziale elettrica U_b (rispetto allo zero dell'energia potenziale), il potenziale elettrostatico di quel punto è

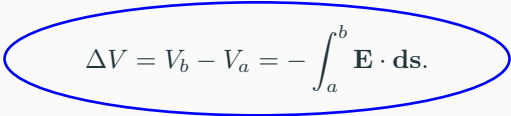
$$V_b = \frac{U_b}{q}.$$

- Il potenziale elettrostatico (come il campo elettrico) non dipende dalla carica di prova q . V dipende solo dalle cariche che creano il campo: la carica q in un punto del campo acquista una data energia potenziale per effetto del potenziale V in quel punto creato da altre cariche.
- L'unità di misura del **potenziale elettrostatico** (che è una **funzione scalare**) è joule/coulomb detto **volt**: $1\text{V} = 1\text{J}/1\text{C}$.

Dal punto di vista fisico quelle che sono perfettamente determinate sono le **differenze di potenziale** fra punti.

Dati due punti a e b in un campo elettrico, la differenza di potenziale tra i due punti è:

$$\Delta V = V_b - V_a = \frac{U_b - U_a}{q} = \frac{\Delta U}{q} = \frac{1}{q} \left(- \int_a^b q \mathbf{E} \cdot d\mathbf{s} \right).$$


$$\Delta V = V_b - V_a = - \int_a^b \mathbf{E} \cdot d\mathbf{s}.$$

La differenza di potenziale tra due punti a e b è uguale al lavoro cambiato di segno che la forza del campo compie quando una carica positiva unitaria si sposta dal punto a al punto b .

Anche la differenza di potenziale tra due punti (detta anche **tensione** o **voltaggio**) si misura in volt.

$$V_b - V_a = - \int_a^b \mathbf{E} \cdot d\mathbf{s} \quad \Rightarrow \quad V_b = - \int_a^b \mathbf{E} \cdot d\mathbf{s} + V_a.$$

Il potenziale V_b in un generico punto b di un campo elettrico dipende dalla scelta arbitraria del potenziale nel punto di riferimento a .
Di solito si assume nullo il potenziale nel punto a .

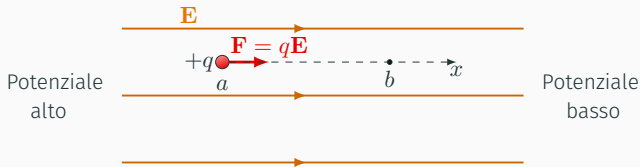
Potenziale in un punto

$$V_b = - \int_a^b \mathbf{E} \cdot d\mathbf{s} = \int_b^a \mathbf{E} \cdot d\mathbf{s}.$$

Il potenziale in un punto b è pari al lavoro che le forze del campo compiono quando la carica positiva unitaria viene spostata dal punto in considerazione al punto di riferimento a (dove il potenziale è arbitrariamente posto a zero)

Dove porre a zero il potenziale?

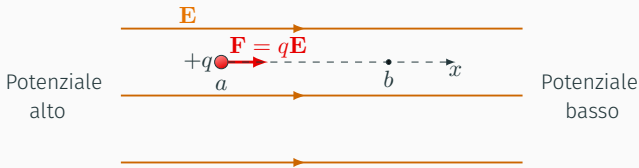
- Spesso il suolo (la Terra), o un conduttore connesso direttamente al suolo, è assunto come zero del potenziale e tutti gli altri valori del potenziale sono riferiti al suolo. Si dice quindi, ad esempio, che un punto ha un potenziale di 100 V se la differenza di potenziale tra questo punto e il suolo è 100 V .
- In altri casi, vedremo più avanti, sarà conveniente scegliere come zero del potenziale quello di un punto posto all'infinito ($r \rightarrow \infty$). In questo caso, il potenziale in un punto è pari al lavoro che le forze del campo compiono quando la carica positiva unitaria viene portata dal punto che si considera all'infinito.



$$U_b - U_a = - \int_a^b q\mathbf{E} \cdot d\mathbf{s} = -qE(x_b - x_a) = -qEd < 0$$

$$\Delta V = V_b - V_a = \frac{U_b - U_a}{q} = -Ed < 0 \quad (1)$$

- Le cariche positive si muovono verso i punti a potenziale decrescente: $\Delta V < 0 \Rightarrow \Delta U = q\Delta V < 0$.
- Le cariche negative si muovono verso i punti a potenziale crescente: $\Delta V > 0 \Rightarrow \Delta U = q\Delta V < 0$.
- Il campo elettrico è diretto verso i potenziali decrescenti.



$$U_b - U_a = - \int_a^b q\mathbf{E} \cdot d\mathbf{s} = -qE(x_b - x_a) = -qEd < 0$$

$$\Delta V = V_b - V_a = \frac{U_b - U_a}{q} = -Ed < 0 \quad (1)$$

- Le cariche positive si muovono verso i punti a potenziale decrescente: $\Delta V < 0 \Rightarrow \Delta U = q\Delta V < 0$.
- Le cariche negative si muovono verso i punti a potenziale crescente: $\Delta V > 0 \Rightarrow \Delta U = q\Delta V < 0$.
- Il campo elettrico è diretto verso i potenziali decrescenti.

Dall'Eq. (1) si vede come il campo elettrico si può anche misurare in V/m

Le sorgenti di energia elettrica, come le pile, hanno lo scopo di mantenere una differenza di potenziale.

La quantità di energia prodotta da questi dispositivi dipende dalla carica che fluisce e dalla differenza di potenziale.



Esempio

Si supponga di avere una batteria da 1,5 V che alimenta una lampadina: la quantità di energia elettrica trasformata in luce e calore dipende dal flusso totale di carica, che a sua volta dipende da quanto la batteria resta accesa.

Se in un certo tempo Δt fluiscono 2 C di carica attraverso la lampadina

$$\Delta U = q\Delta V = (2 \text{ C}) \cdot (1,5 \text{ V}) = 3 \text{ J}$$

Se il tempo di accensione fosse doppio, fluirebbero 4 C di carica e l'energia elettrica trasformata in luce e calore sarebbe

$$\Delta U = (4 \text{ C}) \cdot (1,5 \text{ V}) = 6 \text{ J}$$

Alcune tipiche differenze di potenziale

Sorgente	V, volt
Nubi temporalesche rispetto al terreno	$\sim 10^8$
Linea elettrica di alta tensione	$\sim 10^6$
Elettrodi candela automobile	$\sim 10^4$
Presa di corrente domestica	220
Batteria automobile	12
Potenziale a riposo attraverso membrana cellula nervosa	10^{-1}
Variazione di potenziale sulla pelle (elettrocardiogramma ed elettroencefalogramma)	10^{-4}

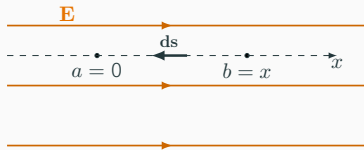
Esercizio

Un campo elettrico punta nella direzione positiva dell'asse x e ha intensità costante pari a $10 \text{ N/C} = 10 \text{ V/m}$. Si determini come varia il potenziale in funzione di x , assumendo $V = 0$ in $x = 0$.

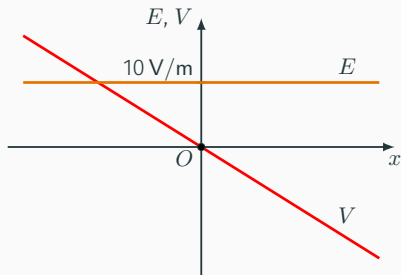
Il potenziale in un punto b è pari al lavoro che le forze del campo compiono quando la carica positiva unitaria viene spostata dal punto in considerazione al punto di riferimento a (dove il potenziale è arbitrariamente posto a zero).

$$V_b = \int_b^a \mathbf{E} \cdot d\mathbf{s}$$

Nel caso dell'esercizio il punto b è un generico punto di coordinata x e il punto a è il punto in $x = 0$.



$$V(x) = \int_x^0 \mathbf{E} \cdot d\mathbf{s} = E \int_x^0 dx = -Ex = -(10 \text{ V/m})x$$



Il potenziale decresce di 10 V per ogni metro di spostamento da sinistra verso destra.